

**Wojewódzki Konkurs Przedmiotowy
z Historii dla uczniów szkół podstawowych
województwa kujawsko-pomorskiego**

Etap rejonowy – data: 16. 12. 2021 r.

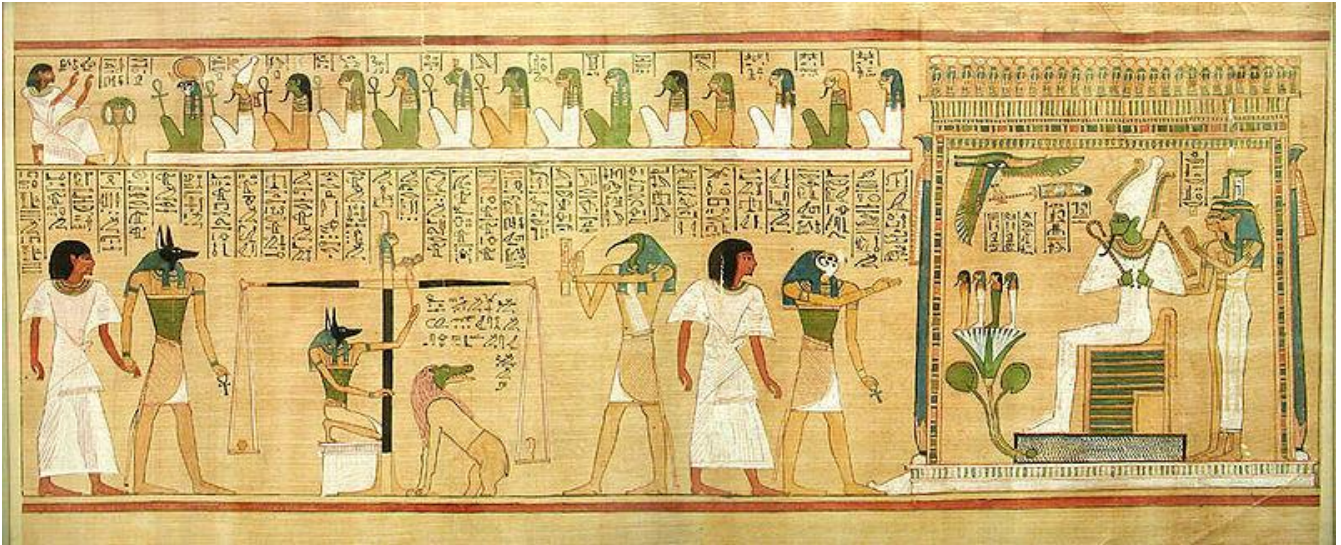
Instrukcja dla ucznia

Zanim przystąpisz do rozwiązywania testu, przeczytaj uważnie poniższą instrukcję.

1. Wpisz w wyznaczonym miejscu na **TEŚCIE** swój kod ustalony przez Komisję Konkursową. **Nie wpisuj** swojego imienia i nazwiska.
2. Przed rozpoczęciem pracy sprawdź, czy twój test jest kompletny. Niniejszy test zawiera 20 zadań.
3. Przeczytaj uważnie i ze zrozumieniem polecenia i wskazówki do każdego zadania.
4. Przy każdym zadaniu zaznacz właściwe odpowiedzi.
5. Przy każdym zadaniu podano maksymalną liczbę punktów, którą można uzyskać.
6. Pracuj samodzielnie.
7. Nie wolno wносить telefonów komórkowych na Konkurs.
8. Całkowity czas na wykonanie testu wynosi **60 minut**.

KOD UCZNIA -

ZADANIE I (0 – 5 p.) Na podstawie własnej wiedzy i analizy źródła zaznacz właściwe odpowiedzi w pytaniach znajdujących się pod ilustracją.



Źródło: https://commons.wikimedia.org/wiki/File:BD_Hunefer.jpg

1. Ilustracja powstała w kręgu kultury cywilizacji:
 - A. chińskiej,
 - B. egipskiej,
 - C. babilońskiej.
2. Scena przedstawiona na ilustracji przedstawia:
 - A. sąd bogów nad duszą zmarłego,
 - B. moment narodzin człowieka,
 - C. uroczystość ku czci bogów.
3. Najważniejszą postacią na ilustracji jest bóg siedzący na tronie po prawej stronie. Jest to bóg:
 - A. Tot,
 - B. Anubis,
 - C. Ozyrys.
4. Tekst umieszczony na ilustracji został napisany pismem:
 - A. alfabetycznym,
 - B. klinowym,
 - C. hieroglificznym.
5. Ilustracja potwierdza, że religia ta miała charakter:
 - A. politeistyczny,
 - B. monoteistyczny.

ZADANIE II (0 – 5 p.) Na podstawie własnej wiedzy i analizy źródła wybierz właściwe zakończenia zdań z nawiasów.

1. Ilustracja przedstawia kopię rzeźby, którą stworzył (Myron, Fidiasz).
2. Rzeźba powstała w V wieku p.n.e. w (Rzymie, Grecji).
3. Rzeźba przedstawia sportowca z (dyskiem, kulą).
4. W skład pięcioboju wchodziły również skoki (wzwyż, w dal).
5. Igrzyska olimpijskie w Olimpii rozgrywano ku czci boga (Zeusa, Posejdona).



Źródło: <http://www.wiw.pl/kulturaantyczna/twardecki/termin.asp?et=00106>

ZADANIE III (0 – 4 p.) Na podstawie analizy mapy Europy w czasach średniowiecza i własnej wiedzy wybierz właściwe zakończenia zdań z nawiasów.



Źródło: [https://portal.scholaris.pl/zasob/109433?tid\[\]=2&bid=0&iid=0&query=ksi%C4%85dz&api=](https://portal.scholaris.pl/zasob/109433?tid[]=2&bid=0&iid=0&query=ksi%C4%85dz&api=)

1. Mapa przedstawia Europę w czasach panowania (Chlodwiga, Karola Wielkiego).
2. Stolicą Królestwa Franków był (Akwizgran, Paryż).
3. Emirát Kordobański i Państwo Abbasydów były częścią państwa (arabskiego, tureckiego).
4. Ateny leżały na terenach należących do (Cesarstwa Bizantyjskiego, Słowian południowych.)

ZADANIE IV (0 – 4 p.) Na podstawie informacji z tekstu źródłowego i własnej wiedzy oceń prawdziwość zdań znajdujących się pod tekstem.

Ustrój państwa był kontynuacją ustroju późnego Cesarstwa Rzymskiego. Należy jednak pamiętać, że opierał się on na wzorcach wschodnich. [...] Na czele stał cesarz. Zarzucono jednak dawne, łacińskie tytuły imperatora czy augusta zostawiając grecki tytuł basileus [...] Oddawało to dobrze charakter jego absolutnej władzy.

Źródło: T. Jurek, Dzieje średniowieczne 1. Warszawa 1999, s. 14.

1. Tekst opisuje ustrój Cesarstwa Rzymskiego Narodu Niemieckiego (prawda, fałsz).
2. Cesarz posługiwał się tytułem basileus (prawda, fałsz).
3. W państwie tym dominowały greckie obyczaje (prawda, fałsz).
4. Państwo to upadło w połowie XV wieku w wyniku najazdu Arabów (prawda, fałsz).

ZADANIE V (0 – 6 p.) Do podanych definicji dobierz ich nazwy .

1	W systemie lennym osoba przyjmująca obowiązek militarnej i materialnej opieki nad drugim człowiekiem, w zamian za przysięgę wierności.	A	SENIOR
		B	WASAL
2	Zbiorowość społeczna w społeczeństwie feudalnym wyróżniająca się określoną pozycją ekonomiczną, społeczną, prawną i wyodrębnionymi prawami i obowiązkami.	A	GRUPA
		B	STAN
3	Termin oznaczający rozłam w Kościele, zwłaszcza w chrześcijaństwie, w wyniku którego powstają dwie odrębne organizacje kościelne lub wyznania.	A	SCHIZMA
		B	DIASPORA
4	Zbrojne wyprawy podejmowane w XI–XIII wieku dla odzyskania Grobu Chrystusa w Jerozolimie z rąk muzułmanów organizowane przez papieża jako przedsięwzięcia całego zachodniego chrześcijaństwa.	A	KRUCJATY
		B	PODBOJE
5	Proces zakładania miast i wsi przez właściciela ziemi zgodnie z obowiązującym prawem i zasadami.	A	LOKACJA
		B	FUNDACJA
6	Styl w architekturze europejskiej charakteryzujący się m.in. grubymi murami, małymi oknami zakończonymi łukami półpełnymi.	A	ROMAŃSKI
		B	GOTYCKI




ZADANIE VI (0 – 6 p.) Wskaż literę przy której wypisano **wcześniejsze** wydarzenie.

1. Wielkie odkrycia geograficzne:
 - A. odkrycie Ameryki przez Krzysztofa Kolumba;
 - B. odkrycie przez Vasco da Gamę drogi morskiej do Indii.
2. Reformacja w Europie:
 - A. ogłoszenie aktu supremacji w Anglii;
 - B. wywieszenie przez Marcina Lutera na drzwiach kościoła w Wittenberdze.
3. Reformacja w Europie:
 - A. ogłoszenie pokoju w Augsburgu;
 - B. wydanie edyktu nantejskiego.
4. Wojna o niepodległość Stanów Zjednoczonych:
 - A. uchwalenie Konstytucji USA;
 - B. ogłoszenie Deklaracji Niepodległości.

5. Wielka Rewolucja Francuska:
 - A. zwołanie Stanów Generalnych;
 - B. ścięcie Ludwika XVI.
6. Epoka napoleońska w Europie:
 - A. utworzenie Legionów Polskich we Włoszech;
 - B. utworzenie Księstwa Warszawskiego.

ZADANIE VII (0 – 3 p.) Rozpoznaj dzieła wybitnych twórców włoskiego renesansu. Pod zdjęciami zaznacz literę, przy której znajduje się nazwisko autora.

(Źródło: <https://pl.wikipedia.org> xxx)

A	B	C
		
<p>A. Leonardo da Vinci, B. Donato Bramante, C. Rafael Santi.</p>	<p>A. Tycjan, B. Leonardo da Vinci, C. Michał Anioł.</p>	<p>A. Rafael Santi, B. Sandro Botticelli, C. Tycjan.</p>

ZADANIE VIII (0 – 6 p.) Uzupełnij poniższy tekst dotyczący kongresu wiedeńskiego. Wybierz prawidłowe informacje z nawiasów.

Obrady kongresu wiedeńskiego rozpoczęły się we wrześniu (1814, 1815) roku po zesłaniu Napoleona na wyspę (Św. Heleny, Elbę). Został zwołany w celu dokonania zmian terytorialnych i ustrojowych po rewolucji francuskiej i wojnach napoleońskich. Przy podejmowaniu decyzji kierowano się zasadą (równowagi, legitymizmu), która zakładała nienaruszalność praw historycznych dynastii. Dokonano restauracji Burbonów we Francji. Na tronie zasiadł król (Ludwik XVI, Ludwik XVIII). Jedną ze zmian terytorialnych ustalonych na kongresie wiedeńskim było utworzenie (Królestwa Polskiego, Księstwa Warszawskiego). Po zakończeniu obrad władcy Rosji, Austrii i Prus utworzyli (Świętą Inkwizycję, Święte Przymierze), które miało stać na straży porządku politycznego ustanowionego na kongresie wiedeńskim.

ZADANIE IX (0 – 5 p.) Poniższa ilustracja przedstawia ważny wynalazek z XIX wieku. Na podstawie analizy znaczka i własnej wiedzy rozstrzygnij, czy zdania umieszczone poniżej są prawdziwe czy fałszywe.



Źródło: <https://pl.dreamstime.com/george-stephenson-rakieta-historia-lokomotoryczny-seria-oko%C3%A5%E2%80%9Ao-moskwa-rosja-luty-znaczek-drukuj%C3%A4%E2%80%A6cy-w-polska-przedstawie%C3%A5%E2%80%9E-image141634736>

1. Przedstawiona na znaczku maszyna to lokomotywa parowa.
A. prawda,
B. fałsz.
2. Jej konstruktorem był angielski wynalazca Georg Stephenson.
A. prawda,
B. fałsz.
3. Została ona skonstruowana w II połowie XIX wieku.
A. prawda,
B. fałsz.
4. Nazwę „Rakieta” zawdzięcza możliwości lotu nad ziemią.
A. prawda,
B. fałsz.
5. Balon na ogrzane powietrze braci Montgolfier został skonstruowany wcześniej niż pojazd przedstawiony na znaczku:
A. prawda,
B. fałsz.

ZADANIE X (0 – 6 p.) Poniżej znajduje się 6 pytań, do których przygotowano po cztery odpowiedzi, z których tylko jedna jest prawdziwa. Zaznacz literę przy prawidłowej odpowiedzi.

1. „Królem Słońce” nazywano we Francji:
A. Ludwika XIII,
B. Ludwika XIV,
C. Ludwika XVI,
D. Ludwika XVI.

2. Pierwszym królem Królestwa Prus był:
 - A. Fryderyk I,
 - B. Fryderyk Wilhelm I,
 - C. Fryderyk II Wielki,
 - D. Fryderyk Wilhelm II.
3. Władcą Rosji, który nakazał bojarom ogolić brody był:
 - A. Iwan IV Groźny,
 - B. Piotr I Wielki,
 - C. Dymitr,
 - D. Michał I.
4. Pierwszym prezydentem w historii Francji był:
 - A. Ludwik XVI,
 - B. Napoleon Bonaparte,
 - C. Ludwik Napoleon Bonaparte,
 - D. Ludwik XVIII.
5. Prezydentem USA w czasie wojny secesyjnej był:
 - A. Abraham Lincoln,
 - B. Jerzy Waszyngton,
 - C. Thomas Jefferson,
 - D. Franklin Delano Roosevelt.
6. Pierwszym królem Królestwa Włoch w 1861 roku był:
 - A. Giuseppe Garibaldi,
 - B. Wiktor Emanuel II,
 - C. Camillo Cavour,
 - D. Wiktor Emanuel I.

ZADANIE XI (0 – 6 p.) Uzupełnij tekst dotyczący terytorium państwa polskiego. Wybierz prawidłowe informacje z nawiasów.

Państwo polskie powstało w (IX, X) wieku. Pod koniec panowania Mieszka I obejmowało obszar Pomorza ze Szczecinem, Kołobrzegiem i Gdańskiem, Mazowsze, Małopolskę oraz Śląsk. Za panowania (Mieszka II, Bolesława Chrobrego) w wyniku wojen z Niemcami do Polski przyłączono (Milsko i Łużyce, Grody Czerwieńskie). Śląsk został oderwany od Polski w czasie rządów (Władysława Hermana, Kazimierza Odnowiciela). Był to skutek wyprawy księcia czeskiego Brzetysława na Polskę. Zwierzchnictwo Polski nad Pomorzem Gdańskim skończyło się w czasach kryzysu monarchii w I połowie XI wieku, a panowanie nad Pomorzem Zachodnim było jeszcze krótsze. Podbój Pomorza Gdańskiego przez Polskę miał miejsce w latach 1115 – 1119 za panowania (Bolesława Śmiałego, Bolesława Krzywoustego) Zostało ono bezpośrednio włączone do Polski. Koniec jedności terytorialnej państwa polskiego nastąpił w roku 1138, gdy zmarł Bolesław Krzywousty. Przed śmiercią podzielił Polskę na dzielnice pomiędzy swoich (synów, wnuków), co zapoczątkowało okres rozbicia dzielnicowego.

ZADANIE XII (0 – 4 p.) Przeanalizuj poniższą mapkę i na podstawie informacji w niej zawartej i własnej wiedzy wybierz poprawne odpowiedzi w zadaniach umieszczonych pod mapką.



Źródło: <http://wlczpolske.pl/index.php?etap=10&i=1242&nomenu=1>

1. Mapa przedstawia państwo polskie w wieku:
 - A. XII;
 - B. XIII,
 - C. XIV.

2. Zaznaczone na mapie strzałki oznaczają trasę najazdu na Polskę wojsk:
 - A. mongolskich,
 - B. rosyjskich,
 - C. czeskich.

3. W zaznaczonej na mapie bitwie pod Legnicą zginął książę:
 - A. Konrad Mazowiecki,
 - B. Leszek Biały,
 - C. Henryk Pobożny.

4. Wrogie wojska wycofały się z terenów Polski na:
 - A. południe,
 - B. wschód,
 - C. zachód.

ZADANIE XIII (0 – 8 p.) Poniżej znajduje się 8 pytań i po trzy odpowiedzi, z których tylko jedna jest prawdziwa. Zaznacz literę przy prawidłowej odpowiedzi.

1. Wojsko kwarciane utrzymywane było z $\frac{1}{4}$ dochodów (kwarta) z dóbr:
 - A. królewskich,
 - B. szlacheckich,
 - C. kościelnych.
2. Flotę kaperską utworzono za panowania:
 - A. Kazimierza Jagiellończyka,
 - B. Zygmunta I Starego,
 - C. Zygmunta II Augusta.
3. Polityką zagraniczną w państwie polskim zajmował się:
 - A. kanclerz,
 - B. marszałek,
 - C. podskarbi.
4. Przywilej piotrkowski ograniczający opuszczenie wsi przez synów chłopskich nadał szlachcie:
 - A. Zygmunt II August,
 - B. Aleksander Jagiellończyk,
 - C. Jan Olbracht.
5. Według unii lubelskiej wspólne dla Polski i Litwy były:
 - A. król, sejm, przywileje,
 - B. król, skarb, prawa,
 - C. sejm, ziemie, urzędy.
6. Akademię Krakowską odnowiono za panowania:
 - A. Władysława Warneńczyka,
 - B. Władysława Jagiełły,
 - C. Kazimierza Jagiellończyka.
7. Królem Polski i Węgier z dynastii Jagiellonów był:
 - A. Władysław Warneńczyk,
 - B. Władysław Jagiellończyk,
 - C. Władysław Jagiełło.
8. W czasie panowania Jagiellonów w 1526 roku nastąpiła inkorporacja do Korony:
 - A. Śląska,
 - B. Pomorza Zachodniego,
 - C. Mazowsza.

ZADANIE XIV (0 – 5 p.) Na podstawie analizy tekstu źródłowego i własnej wiedzy rozstrzygnij, czy zdania umieszczone poniżej są prawdziwe czy fałszywe.

„Akt sekularyzacji Prus”

(...)Wielki mistrz Albrecht, margrabia brandenburski, przybył do Nas (Zygmunta) osobiście z kilku członkami Zakonu, a swymi poddanymi, którzy mieli pełnomocnictwa ze strony Zakonu i wszystkich jego

poddanych do oddania pod Naszą władzę jako prawowitemu dziedzicowi i panu wszystkich ziem pruskich (...) Margrabia Albrecht, książę pruski, oraz jego następcy i dziedzice lenna będą obowiązani (...) składać Nam takie przyrzeczenie uległości, że gdybyśmy z racji owej ugody lub nadania lenna zostali zaatakowani przez jakiegokolwiek księcia lub państwo, wtedy margrabia Albrecht, względnie jego następcy, książęta pruscy, mają Nam i Naszemu Królestwu przyjść wszędzie z pomocą we własnej osobie wraz ze wszystkimi swoimi poddanymi i z całą swą siłą. Nawzajem My zaś i Nasi Następcy będziemy obowiązani w podobnym wypadku to samo uczynić. Gdyby zaś zdarzyło się, że My sami lub Nasi Następcy i Królestwo Polskie zostaną napadnięci (...) wtedy margrabia Albrecht, lub jego następcy, książęta pruscy, mają z Nami ze stu uzbrojonymi jeźdźcami wyruszyć i służyć Nam w granicach ziemi pruskiej. Gdybyśmy zaś zechcieli wyprowadzić go lub jego następców poza granice Prus, będziemy odtąd obowiązani wypłacać owym stu jeźdźcom żołd.

Źródło: https://www.google.pl/?gws_rd=ssl#q=teksty+%C5%BAr%C3%B3d%C5%82owe+historia+gimnazjum

1. Opisane wydarzenie miało miejsce w roku 1525.
 - A. prawda,
 - B. fałsz.
2. Wymieniony w tekście Albrecht był pierwszym wielkim mistrzem zakonu krzyżackiego.
 - A. prawda,
 - B. fałsz.
3. Władcą wymienionym w tekście jest Zygmunt II August.
 - A. prawda,
 - B. fałsz.
4. W wypadku zbrojnej napaści na Polskę książęta pruscy byli zobowiązani do dostarczenia oddziałów zbrojnych.
 - A. prawda,
 - B. fałsz.
5. Albrecht składa Zygmuntowi hołd lenny.
 - A. prawda,
 - B. fałsz.

ZADANIE XV (0 – 5 p.) Rozpoznaj biogramy postaci historycznych z XVII wieku i zaznacz właściwe nazwisko.

1. Książę Siedmiogrodu, mąż Anny Jagiellonki, prowadził wojny z Iwanem IV Groźnym o Inflanty; doprowadził do utworzenia piechoty wybranieckiej; swe rządy oparł na sojuszu ze średnią szlachtą i jej przywódcą – Janem Zamoyskim.

- A. Zygmunt III Waza;
- B. Stefan Batory.

2. Hetman polny koronny od 1588 roku, hetman wielki koronny i kanclerz wielki koronny od 1618 roku; uczestnik wypraw na Mołdawię i Wołoszczyznę, walk z Kozakami, Szwedami, zwyciężył przeważające liczebnie wojska moskiewskie pod Kłuszynem; poniósł porażkę w bitwie z Turkami pod Cecorą i zginął podczas odwrotu.

- A. Stanisław Żółkiewski,
- B. Stanisław Koniecpolski.

3. Hetman polny koronny, po zwycięstwie nad wojskami tatarsko-kozackimi w bitwie pod Podhajcami mianowany hetmanem wielkim koronnym; pokonał Turków pod Chocimiem; jako król dowodził wojskami polskimi w bitwie pod Wiedniem.

- A. Jan III Sobieski,
- B. Władysław IV.

4. Objął tron z wyboru szlachty, przeciwstawiającej się kandydaturze francuskiej; w czasie jego panowania Turcy zdobyli Kamieniec Podolski, podpisano traktat w Buczaczu, na mocy którego Polska miała Turcji płacić haracz.

- A. Jan Kazimierz,
- B. Michał Korybut Wiśniowiecki.

5. Wojewoda wileński i hetman wielki litewski: uczestnik wojen ze Szwecją, Moskwą i Turcją; pokonał wojska szwedzkie w bitwie pod Kircholmem, na czele wojsk wiernych królowi pokonał rokoszan w bitwie pod Guzowem; dowodził wojskami polskimi w początkowej fazie obrony Chocimia.

- A. Jan Karol Chodkiewicz.
- B. Stefan Czarniecki.

ZADANIE XVI (0 – 5 p.) Uzupełnij tekst dotyczący Polski w czasach saskich. Wybierz prawidłowe informacje z nawiasów.

Po śmierci (Jana III Sobieskiego, Michała Korybuta Wiśniowieckiego) na króla został koronowany August II. Polska zawarła unię personalną z (Rosją, Saksonią). Ponieważ król wziął udział w wojnie północnej, w 1704 roku część szlachty ogłosiła jego detronizację, a na króla wybrano (Stanisława Leszczyńskiego, Stanisława Augusta Poniatowskiego). Po zwycięstwie Piotra I Wielkiego w bitwie pod Połtawą w roku (1709, 1710) wojska rosyjskie wkroczyły do Polski i przywróciły na tron Augusta II. Za jego panowania samodzielność polityczna kraju była stopniowo ograniczana, a (Rosja, Austria) coraz bardziej ingerowała w sprawy wewnętrzne Polski.

ZADANIE XVII (0 – 5 p.) Rozstrzygnij, czy poniższe zdania są prawdziwe czy fałszywe. Zaznacz prawidłową odpowiedź.

1. W czasach baroku w Polsce wśród szlachty rozwinęła się kultura sarmacka.
 - A. prawda,
 - B. fałsz.
2. Sarmatyzm zakładał, że szlachta wywodzi się od walecznego plemienia Sarmatów.
 - A. prawda,
 - B. fałsz.
3. W malarstwie polskim okresu baroku przeważały obrazy o tematyce świeckiej.
 - A. prawda,
 - B. fałsz.
4. Szlachta w tym okresie przejmowała elementy kultury Zachodu (m.in. Francji).
 - A. prawda,
 - B. fałsz.
5. W czasach kultury barokowo – sarmackiej Polska stała się krajem tolerancji religijnej.
 - A. prawda,
 - B. fałsz.

ZADANIE XVIII (0 – 3 p.) Rozpoznaj wydarzenia z historii Polski XVIII wieku przedstawione przez malarza Jana Matejkę. Wybierz literę, przy której wpisano wydarzenie związane z obrazem.



1

- A. I rozbiór Polski.
- B. II rozbiór Polski.
- C. III rozbiór Polski.



2

- A. powstanie kościuszkowskie,
- B. konfederacja barska,
- C. wojna w obronie konstytucji (1792).



3

- A. uchwalenie Konstytucji 3 Maja,
- B. początek obrad Sejmu Wielkiego,
- C. koronacja Stanisława Augusta Poniatowskiego.

Źródło: https://pl.wikipedia.org/wiki/Jan_Matejko#Technika_i_cechy_malarstwa_Matejki

ZADANIE XIX (0 – 5 p.) Uzupełnij tekst dotyczący Księstwa Warszawskiego. Wybierz prawidłowe informacje z nawiasów.

Księstwo Warszawskie powstało w (1806, 1807) roku na mocy postanowień pokoju w Tylży podpisanego przez Napoleona Bonaparte i cara (Aleksandra I, Mikołaja I). Na obszar Księstwa początkowo składały się ziemie II i III zaboru (pruskiego, rosyjskiego). W 1809 roku przyłączono ziemie (pierwszego, trzeciego) zaboru austriackiego. Podstawą ustroju była konstytucja nadana przez Napoleona w Dreźnie w dniu 22 lipca 1807 roku. Księstwo było monarchią konstytucyjną z dziedziczną władzą księcia, którym został król Saksonii, Fryderyk August I. W wyniku klęski Napoleona w wyprawie na Rosję wojska carskie zajęły obszar Księstwa w roku (1812, 1813). Ostatecznego podziału ziem dokonano w czasie obrad kongresu wiedeńskiego.

ZADANIE XX (0 – 4 p.) Przeanalizuj poniższą mapkę i na podstawie informacji w niej zawartej i własnej wiedzy wybierz poprawne odpowiedzi w zadaniach umieszczonych pod mapką.



Źródło: <http://wlaczpolske.pl/index.php?etap=10&i=1242&nomenu=1>

1. Mapa przedstawia przebieg powstania:
- A. kościuszkowskiego,
 - B. listopadowego,
 - C. styczniowego.

2. Walki powstańcze toczyły się przede wszystkim na terenie zaboru:
- A. pruskiego,
 - B. rosyjskiego,
 - C. austriackiego.
3. Kropkami zaznaczono miejsca bitew i potyczek, których według historyków było około:
- A. 200,
 - B. 1200,
 - C. 2200.
4. Jednym z przywódców powstania był:
- A. Romuald Traugutt,
 - B. Józef Chłopicki,
 - C. Jan Skrzynecki.